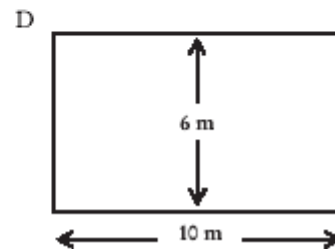
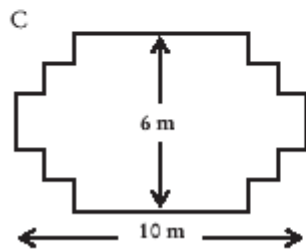
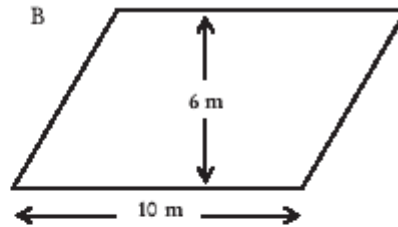
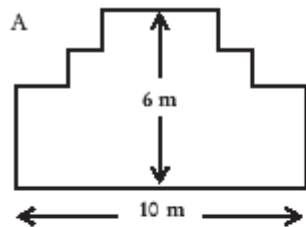


## CARPINTERO

Un carpintero tiene 32 metros de madera y quiere construir una pequeña valla alrededor de un parterre en el jardín. Está considerando los siguientes diseños para el parterre:



---

### PREGUNTA 1 : \* \* \* \* \*

---

Rodea con un círculo Si o No para indicar si, para cada diseño, se puede o no se puede construir el parterre con los 32 metros de madera.

Diseño del parterre	¿Puede construirse el parterre con 32 metros de madera utilizando el diseño?
Diseño A	<i>Si / No</i>
Diseño B	<i>Si / No</i>
Diseño C	<i>Si / No</i>
Diseño D	<i>Si / No</i>