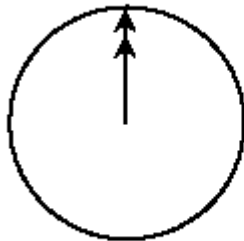


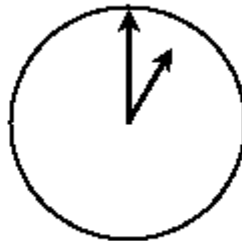
CHATEAR

Mark (de Sydney, Australia) y Hans (de Berlín, Alemania) se comunican a menudo a través de Internet mediante el chat. Tienen que conectarse a Internet a la vez para poder “chatear”.

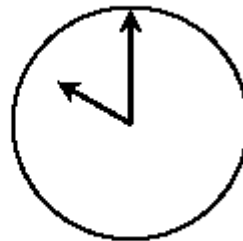
Para encontrar una hora apropiada para catear, Mark buscó un mapa horario mundial y halló lo siguiente:



Greenwich 12 de la noche



Berlín 1:00 de la noche



Sydney 10:00 de la mañana

PREGUNTA 1 : * * *

Cuando son las 7:00 de la tarde en Sydney, ¿Qué hora es en Berlín?

Respuesta: _____

PREGUNTA 2 : * * * * *

Mark y Hans no pueden chatear entre las 9:00 de la mañana y las 4:30 de la tarde, de sus respectivas horas locales, porque tienen que ir al colegio. Tampoco pueden desde las 11:00 de la noche hasta las 7:00 de la mañana, de sus respectivas horas, porque están durmiendo.

¿A qué horas podrán catear Mark y Hans? Escribe las respectivas horas locales en la tabla:

Lugar	Hora
Sydney	
Berlín	