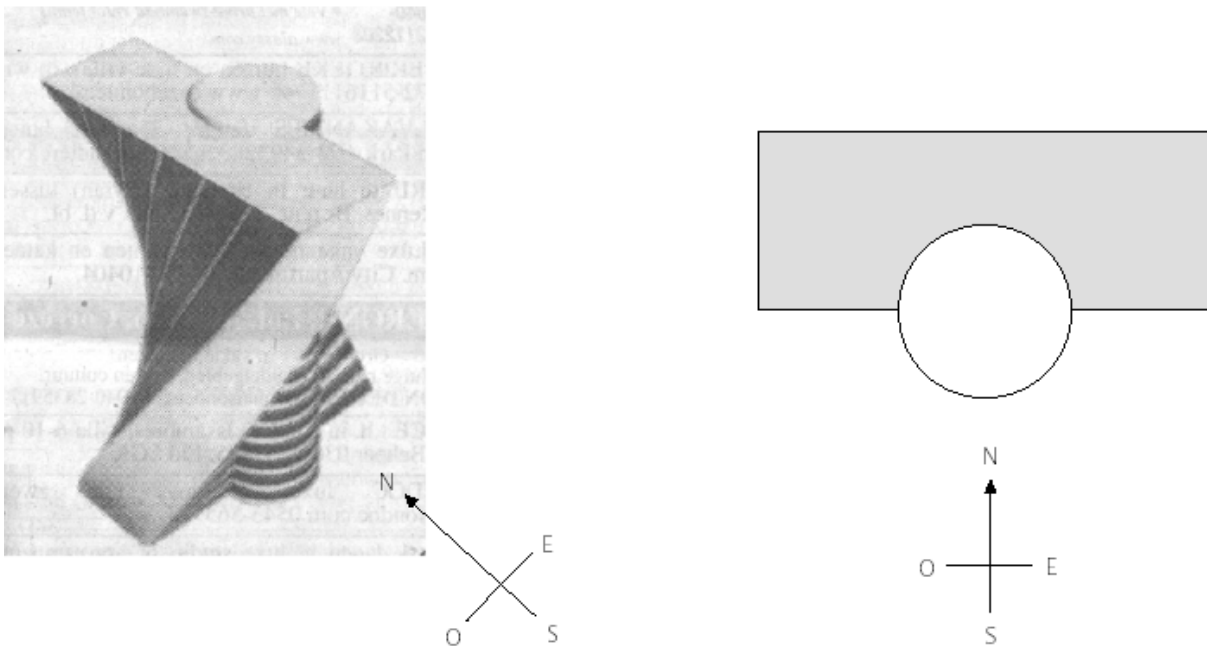


EL EDIFICIO RETORCIDO

En la arquitectura moderna los edificios a menudo tienen formas inusuales. La imagen siguiente muestra un modelo diseñado por ordenador de un “edificio retorcido” y un plano de la planta baja. Los puntos cardinales muestran la orientación del edificio.



En la planta baja del edificio está la entrada principal y un espacio para tiendas. Por encima de la planta baja hay 20 plantas de viviendas.

El plano de cada planta es similar al de la planta baja, pero la ordenación de cada planta es ligeramente distinta a la de la planta inmediatamente inferior. En el cilindro se encuentran el hueco del ascensor y un vestíbulo para cada planta.



PREGUNTA 1

Calcula la altura total del edificio en metros. Explica cómo has hallado la respuesta.

PREGUNTA 2

¿Desde dónde se ha obtenido la vista lateral 1?

- a) Desde el norte.
- b) Desde el oeste.
- c) Desde el este.
- d) Desde el sur.



PREGUNTA 3

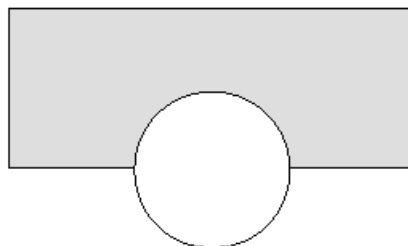
¿Desde dónde se ha obtenido la vista lateral 2?

- a) Desde el noroeste
- b) Desde el noreste
- c) Desde el suroeste
- d) Desde el sureste

PREGUNTA 4

Cada planta de viviendas tiene cierta “torsión” con respecto a la planta baja. La última planta (la 20ª por encima de la planta baja) forma un ángulo recto con la planta baja.

La figura de abajo representa la planta baja.



Dibuja en este mismo gráfico el plano de la 10ª planta, mostrando cómo queda situada con respecto a la planta baja.